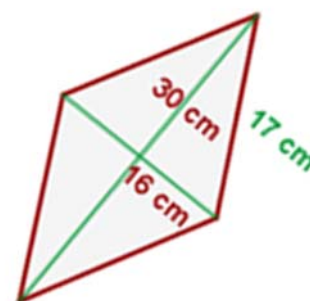
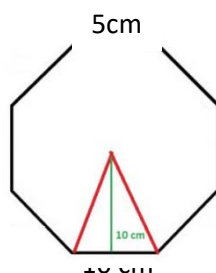
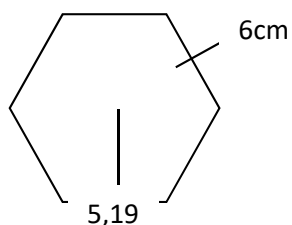
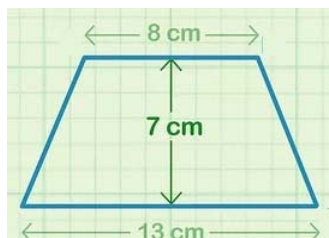
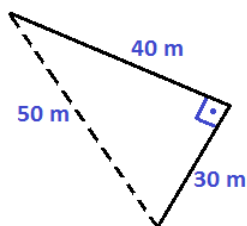


1. DIBUJA CADA FIGURA ANOTANDO LAS MEDIDAS DADAS Y ESCRIBE SU NOMBRE.
2. ESCRIBE/COPIA LAS FÓRMULAS DEL PERÍMETRO Y DEL ÁREA.
3. CALCULA EL PERÍMETRO Y EL ÁREA. RECUERDA EXPRESAR LAS MEDIDAS CORRECTAMENTE



4. Halla el área de la parte coloreada.

