
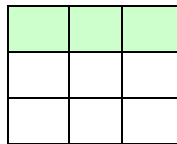
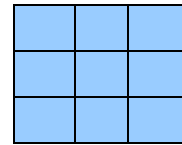
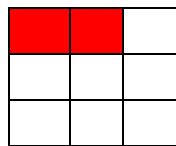
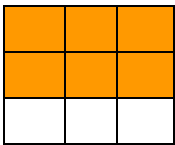


## CORRECCIÓN DE LA FICHA 2 DE REPRESENTACIÓN DE FRACCIONES (Martes 12 de mayo).


Recuerda que para realizar esta ficha debías repasar los apuntes de fracciones que dimos en clase.

1). Representa en las siguiente figura estas fracciones: **Cada fracción se corresponde con la figura de su color.**


$$\frac{6}{9} \quad \frac{2}{9} \quad \frac{9}{9} \quad \frac{3}{9} \quad \frac{1}{9}$$




2) Colorea la fracción de dibujo que corresponda.



$$\frac{3}{4}$$



$$\frac{2}{4}$$



$$\frac{1}{4}$$

3) Colorea la fracción de dibujo que corresponda en estas figuras:  $\frac{9}{18}$   $\frac{16}{21}$   $\frac{2}{4}$

