


FICHA 1. CÍRCULO, CIRCUNFERENCIA, RADIO Y DIÁMETRO.


1. Para recordar los conceptos del título (círculo, circunferencia, radio y diámetro), debes pinchar en el siguiente enlace y escuchar con atención la explicación.

https://www.youtube.com/watch?v=ZLLxv_2H6SI


2. En las siguientes figuras, escribe debajo de qué color es su círculo y su circunferencia.



Círculo: AMARILLO
Circunferencia: AZUL



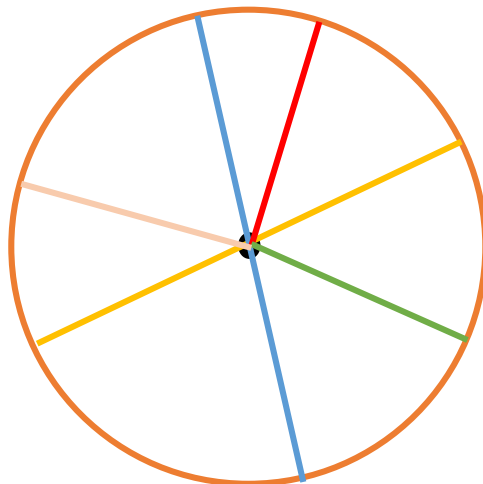
Círculo: VERDE
Circunferencia: ROJO



Círculo: MARRÓN
Circunferencia: NEGRO

3. Dibuja en la siguiente figura:

- El centro de color negro.
- Dos diámetros, uno de color amarillo y otro de color azul.
- Tres radios, uno rojo, otro verde y el último rosa.
- La circunferencia de color naranja.



4. Dibuja una circunferencia que tenga un diámetro de 15 cm. Después, colorea el círculo de color amarillo y dibuja un radio de color negro.

- ¿Cuánto mide el radio de la circunferencia que has dibujado?

El radio de la circunferencia mide 7,5 centímetros.

